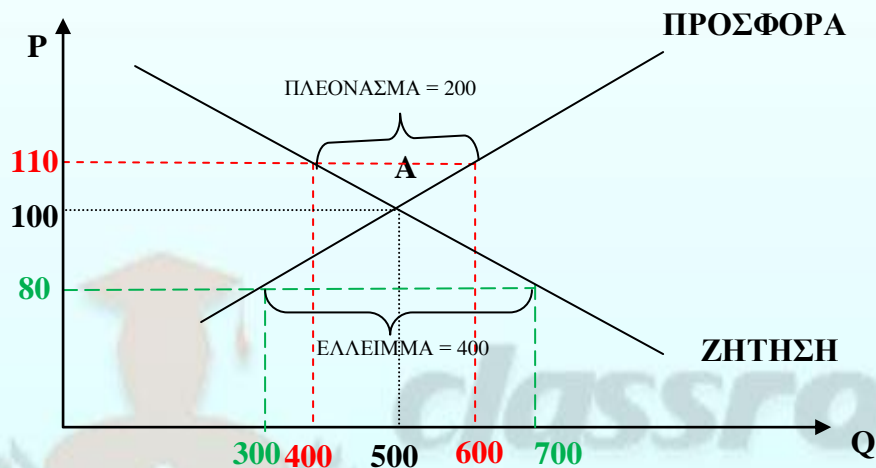


ΙΣΟΡΡΟΠΙΑ

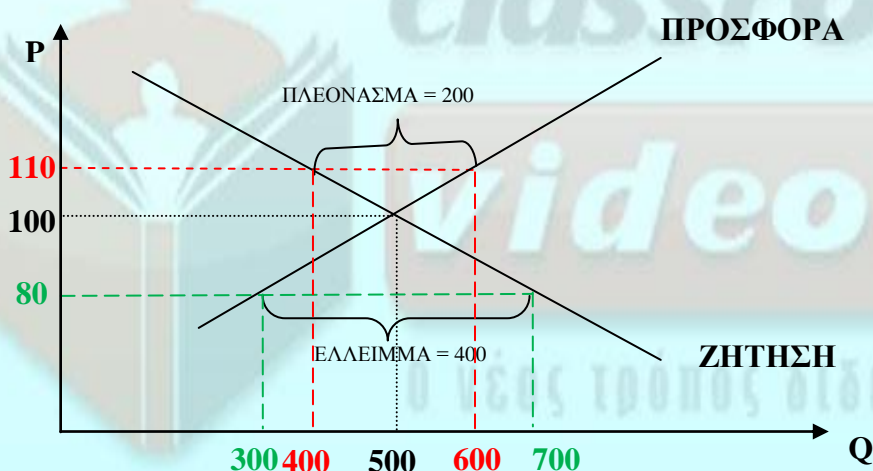
Η τιμή και η ποσότητα ισορροπίας καθορίζονται στην αγορά από τις δυνάμεις της προσφοράς και ζήτησης .



Για οποιαδήποτε τιμή ($P > 100$) έχουμε πλεόνασμα δηλαδή μεγαλύτερη παραγόμενη ποσότητα (προσφορά) από ότι ζητούμενη ποσότητα (ζήτηση).
Για οποιαδήποτε τιμή ($P < 100$) έχουμε έλλειμμα δηλαδή μεγαλύτερη ζητούμενη ποσότητα (ζήτηση) από ότι παραγόμενη ποσότητα (προσφορά).

Αποκατάσταση Ελλείμματος: Το έλλειμμα σημαίνει ότι ζητείται μεγαλύτερη ποσότητα από ότι παράγεται. Άρα οι καταναλωτές πιέζουν τις επιχειρήσεις για περισσότερο προϊόν. Οι επιχειρήσεις αντιδρούν αυξάνοντας την τιμή του προϊόντος έτσι ώστε να μπορούν να παράγουν μεγαλύτερη ποσότητα ενώ η αύξηση μειώνει τη ζητούμενη ποσότητα. Η διαδικασία αυτή συνεχίζεται μέχρις ότου φτάσουμε σε σημείο ισορροπίας.

Αποκατάσταση Πλεονάσματος: Το πλεόνασμα σημαίνει ότι παράγεται μεγαλύτερη ποσότητα από ότι ζητείται. Άρα οι επιχειρήσεις βλέποντας το προϊόν τους να συσσωρεύεται μειώνουν τις τιμές για να μπορέσουν να προσελκύσουν καταναλωτές. Η μείωση των τιμών αυξάνει τη ζητούμενη ποσότητα ενώ παράλληλα μειώνει την προσφερόμενη καθώς είναι ασύμφορο για τις επιχειρήσεις να παράγουν όσο πριν. Η διαδικασία αυτή συνεχίζεται μέχρις ότου φτάσουμε σε σημείο ισορροπίας.



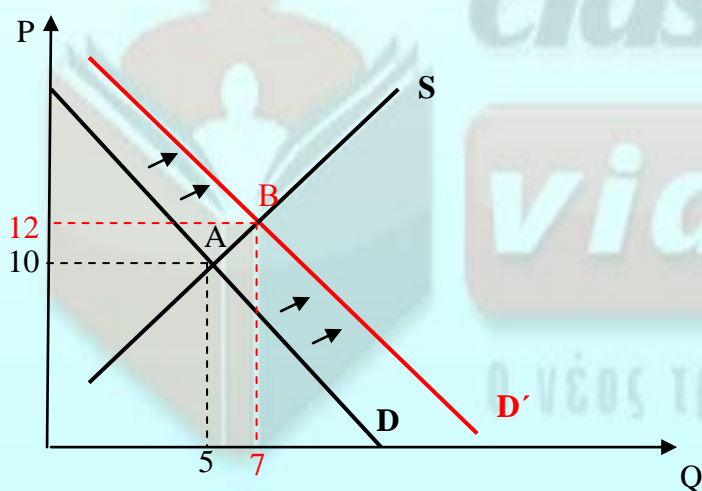
ΜΕΤΑΒΟΛΕΣ ΣΤΗΝ ΙΣΟΡΡΟΠΙΑ ΛΟΓΩ ΜΕΤΑΒΟΛΩΝ ΤΗΣ ΖΗΤΗΣΗΣ

1. ΑΥΞΗΣΗ ΤΗΣ ΖΗΤΗΣΗΣ

Εάν η ζήτηση αυξηθεί λόγω μεταβολής κάποιου προσδιοριστικού παράγοντα στο βίντεο 2 όπως:

- Αύξηση του εισοδήματος ενός κανονικού αγαθού ή μείωση του εισοδήματος ενός κατώτερου αγαθού.
- Αύξηση της τιμής ενός υποκατάστατου αγαθού ή μείωση της τιμής ενός συμπληρωματικού αγαθού
- Θετική μεταβολή των προτιμήσεων των καταναλωτών

τότε θα έχουμε μετατόπιση της καμπύλης ζήτησης προς τα δεξιά με συνέπεια αύξηση τόσο της τιμής όσο και της ποσότητας ισορροπίας:

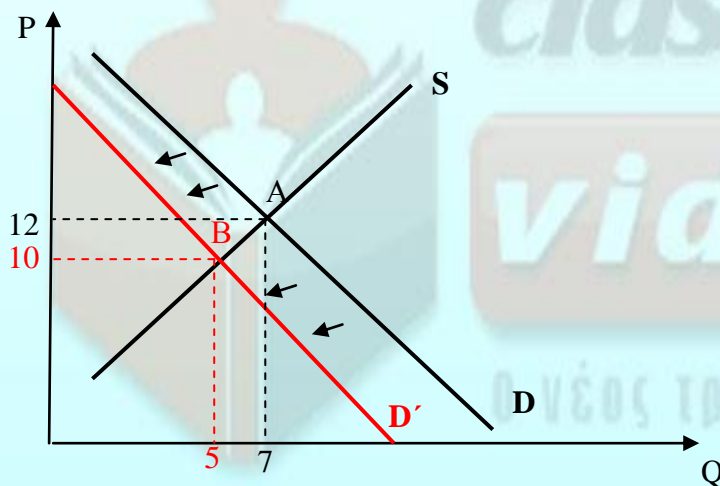


2. ΜΕΙΩΣΗ ΤΗΣ ΖΗΤΗΣΗΣ

Εάν η ζήτηση μειωθεί λόγω μεταβολής κάποιου προσδιοριστικού παράγοντα στο βίντεο 2 όπως:

- Μείωση του εισοδήματος ενός κανονικού αγαθού ή αύξηση του εισοδήματος ενός κατώτερου αγαθού.
- Μείωση της τιμής ενός υποκατάστατου αγαθού ή αύξηση της τιμής ενός συμπληρωματικού αγαθού
- Αρνητική μεταβολή των προτιμήσεων των καταναλωτών

τότε θα έχουμε μετατόπιση της καμπύλης ζήτησης προς τα αριστερά με συνέπεια μείωση τόσο της τιμής όσο και της ποσότητας ισορροπίας:



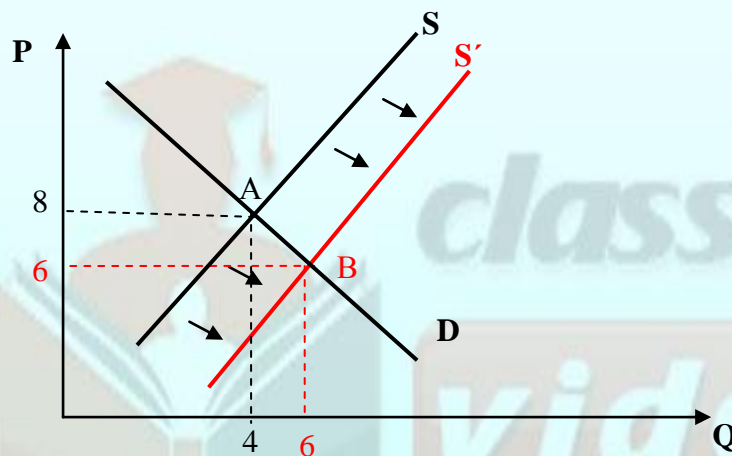
ΜΕΤΑΒΟΛΕΣ ΣΤΗΝ ΙΣΟΡΡΟΠΙΑ ΛΟΓΩ ΜΕΤΑΒΟΛΩΝ ΤΗΣ ΠΡΟΣΦΟΡΑΣ

3. ΑΥΞΗΣΗ ΤΗΣ ΠΡΟΣΦΟΡΑΣ

Εάν η προσφορά αυξηθεί λόγω μεταβολής κάποιου προσδιοριστικού παράγοντα στο βίντεο 3 όπως:

- Μείωση της τιμής των παραγωγικών συντελεστών.
- Βελτίωση της τεχνολογίας
- Αύξηση του αριθμού των επιχειρήσεων στον κλάδο

τότε θα έχουμε μετατόπιση της καμπύλης προσφοράς προς τα δεξιά με συνέπεια μείωση της τιμής αλλά αύξηση της ποσότητας ισορροπίας:

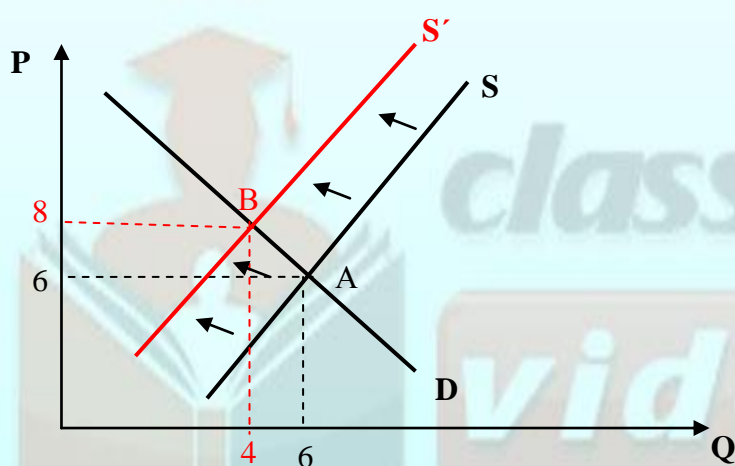


4. ΜΕΙΩΣΗ ΤΗΣ ΠΡΟΣΦΟΡΑΣ

Εάν η προσφορά μειωθεί λόγω μεταβολής κάποιου προσδιοριστικού παράγοντα στο βίντεο 3 όπως:

- Αύξηση της τιμής των παραγωγικών συντελεστών.
- Χειροτέρευση της τεχνολογίας
- Μείωση του αριθμού των επιχειρήσεων στον κλάδο

τότε θα έχουμε μετατόπιση της καμπύλης προσφοράς προς τα αριστερά με συνέπεια αύξηση της τιμής αλλά μείωση της ποσότητας ισορροπίας:



classroom

videos

Ο νέος τρόπος διδασκαλίας!

1. Αν κάποια χρονική στιγμή η τιμή στην αγορά διαμορφωθεί σε ύψος μεγαλύτερο της τιμής ισορροπίας αυτό θα έχει ως αποτέλεσμα.

- α) μείωση της τιμής και αύξησης της ζητούμενης ποσότητας
- β) περαιτέρω αύξησης της τιμής και αύξησης της προσφερόμενης ποσότητας
- γ) μείωση της τιμής και αύξησης της προσφερόμενης ποσότητας
- δ) μείωση της τιμής και αύξησης της ζήτησης.

Σωστή Απάντηση: Α) Όταν έχουμε πλεόνασμα η τιμή θα πρέπει να μειωθεί ώστε να επανέλθει στο επίπεδο ισορροπίας. Άρα η απάντηση θα είναι μία εκ των α), γ) και δ). Η μείωση της τιμής όπως γνωρίζουμε αυξάνει τη ζητούμενη ποσότητα και μειώνει την προσφερόμενη. Άρα σωστή απάντηση είναι η Α).

2. Αν κάποια χρονική στιγμή η τιμή στην αγορά διαμορφωθεί σε ύψος μικρότερο της τιμής ισορροπίας αυτό θα έχει ως αποτέλεσμα.

- α) αύξηση της τιμής και μείωσης της ζητούμενης ποσότητας
- β) περαιτέρω μείωσης της τιμής και μείωση της προσφερόμενης ποσότητας
- γ) αύξησης της τιμής και μείωσης της προσφερόμενης ποσότητας
- δ) αύξηση της τιμής και μείωσης της ζήτησης.

Σωστή Απάντηση: Α) Όταν έχουμε έλλειμμα η τιμή θα πρέπει να αυξηθεί ώστε να επανέλθει στο επίπεδο ισορροπίας. Άρα η απάντηση θα είναι μία εκ των α), γ) και δ). Η αύξηση της τιμής όπως γνωρίζουμε μειώνει τη ζητούμενη ποσότητα και αυξάνει την προσφερόμενη. Άρα σωστή απάντηση είναι η Α).

3. Δίνεται συνάρτηση Ζήτησης $Q_d=100-2P$ και συνάρτηση προσφοράς $Q_s=20+2P$. Η τιμή ισορροπίας είναι (1).....και η ποσότητα ισορροπίας είναι (2).....

- α) (1) 20 και (2) 60
- β) (1) 60 και (2) 20
- γ) (1) 40 και (2) 40
- δ) (1) 80 και (2) 20

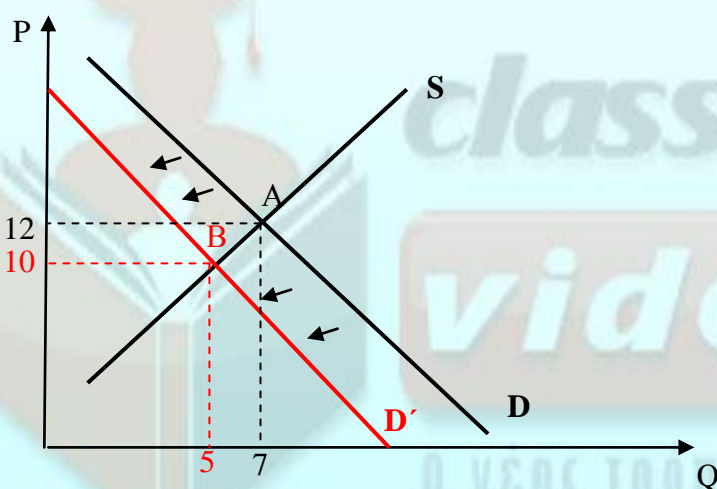
Σωστή απάντηση: $Q_d=Q_s \Rightarrow 100-2P=20+2P \Rightarrow -2P-2P=20-100 \Rightarrow -4P=-80$
 $\Rightarrow \frac{-4P}{-4} = \frac{-80}{-4} \Rightarrow P=20$. Αντικαθιστώντας σε μία εκ των Q_d , Q_s έστω

$Q_d=100-2*20=60$. Άρα σωστή απάντηση είναι η Α.

4. Έστω ότι η αγορά ενός κανονικού αγαθού βρίσκεται σε ισορροπία. Μία μείωση του εισοδήματος των καταναλωτών θα οδηγήσει, με σταθερούς όλους τους άλλους παράγοντες, σε:

- α. μείωση της τιμής ισορροπίας και της ποσότητας ισορροπίας του αγαθού.
- β. αύξηση της τιμής ισορροπίας και της ποσότητας ισορροπίας του αγαθού.
- γ. μείωση της τιμής ισορροπίας του αγαθού και αύξηση της ποσότητας ισορροπίας του.
- δ. αύξηση της τιμής ισορροπίας του αγαθού και μείωση της ποσότητας ισορροπίας του.

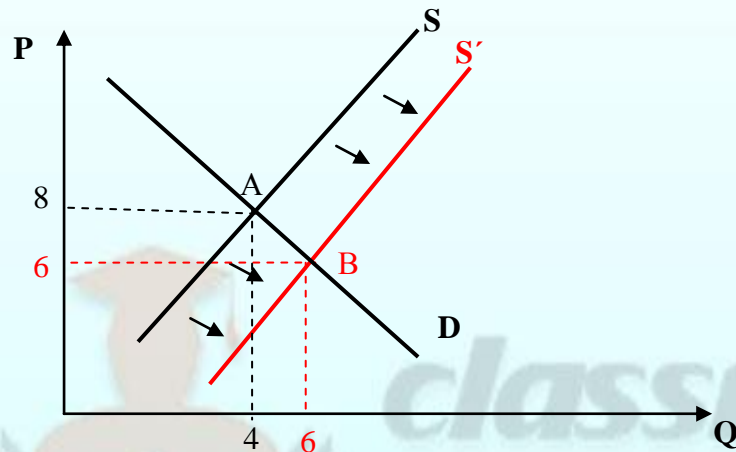
Σωστή απάντηση: Εάν μειωθεί το εισόδημα του καταναλωτή εφόσον αναφερόμαστε σε κανονικό αγαθό αυτό θα οδηγήσει σε μείωση της ζήτησής του. Επομένως η ζήτηση μετατοπίζεται προς τα κάτω και αριστερά με αποτέλεσμα μείωση τόσο της τιμής όσο και της ποσότητας ισορροπίας. **Άρα σωστή απάντηση είναι η Α.**



5. Υποθέστε ότι η αγορά χυμού πορτοκαλιού βρίσκεται σε ισορροπία. Μία μείωση της τιμής των πορτοκαλιών που χρησιμοποιούνται για την παραγωγή αυτού του χυμού θα έχει, με όλους τους άλλους παράγοντες σταθερούς, ως αποτέλεσμα:

- α. την αύξηση της τιμής ισορροπίας και της ποσότητας ισορροπίας του χυμού πορτοκαλιού.
- β. τη μείωση της τιμής ισορροπίας και της ποσότητας ισορροπίας του χυμού πορτοκαλιού.
- γ. τη μείωση της τιμής ισορροπίας και την αύξηση της ποσότητας ισορροπίας του χυμού πορτοκαλιού.
- δ. την αύξηση της τιμής ισορροπίας και τη μείωση της ποσότητας ισορροπίας του χυμού πορτοκαλιού.

Σωστή απάντηση: Εάν μειωθεί η τιμή των πορτοκαλιών που χρησιμοποιούνται για την Παρασκευή του χυμού αυτό θα οδηγήσει σε αύξηση της προσφοράς του. Επομένως η προσφορά μετατοπίζεται προς τα κάτω και δεξιά με αποτέλεσμα μείωση της τιμής και αύξηση της ποσότητας ισορροπίας. Άρα σωστή απάντηση είναι η Γ.



[E-mail: info@onlineclassroom.gr](mailto:info@onlineclassroom.gr)

classroom
videos



Ο ΝΕΟΣ ΤΡΟΠΟΣ ΔΙΔΑΣΚΑΛΙΑΣ!